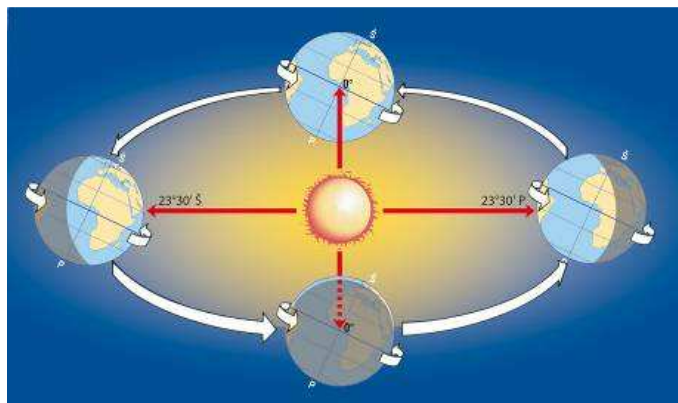


8 – 10 klasės

1. IŠNAGRINĖK PAVEIKSLĄ IR UŽBAIK PILDYTI LENTELE (9 TAŠKAI).



Astronominė metų laiko pradžia	Saulė yra zenite	Mėnuo ir diena
Pavasaris		
	šiaurės atogrąžoje	
		rugsėjo 23 d.

2. ĮRAŠYK Į LENTELE PRIE KIEKVIENO PORTRETO IŽYMIŲ LIETUVOS GEOGRAFŲ PAVARDES (5 taškai);



.....

**3. PABAIKITE SAKINIUS PANAUDODAMI ŠIUOS ŽODŽIUS: PRARASIME VIENĄ VALANDĄ, SUTAUPYSIME VIENĄ VALANDĄ, LAIKAS NESIKEIS (4 taškai)**

- A. Skrendant iš Vilniaus į Londoną- .....
- B. Skrendant iš Rygos į Londoną- .....
- C. Skrendant iš Vilniaus į Maskvą- .....
- D. Skrendant iš Vilniaus į Kairą (Egiptas)- .....


**4. ATPAŽINKITE ISTORINIUS OBJEKTUS (10 TAŠKŲ)**

A.Šio objekto statyba prasidėjo 1933 m. Bendras ilgi yra 2737 m. Aukštis 227 m. Dažytas ryškiai oranžine spalva, kad geriau būtų matomas. Dažniausiai skendi rūke. Sujungė platų kanalą tarp vieno didžiausių vandenyno ir įlankos. Koks tai istorinis objektas ir kur jis yra? (2 taškai)





Atsakymas.....

B. Didingas-30.5 m. iš 69,5 m.pastatas yra dorėninės architektūros pavyzdys. Pastatytas V a. pr. Kr. Dekoruoja šventovę vadovavo didysis skulptorius Fidijas. Koks tai istorinis objektas ir kur jis yra? (2 taškai)



Atsakymas.....

C. Objektas pastatytas XVII a. iš prabangaus marmuro ir grangakmenių imperatoriaus įsakymu jo mylimai žmonai atminti. Alėjoje įrengtas baseinas, kuriame atsisipindi sisingas mauzoliejus. Rožinė spalva, kuri saulei leidžiantis virsta raudona, randasi dėl statinio smiltainio sudėties. Koks tai istorinis objektas ir kur jis yra? (2 taškai)



Atsakymas.....

D. Skulptūros buvo atrastos tik prieš 30 metų, praėjus daugiau nei dviem tūkstančiams metų nuo jų sukūrimo. Drabužiai, šarvai, pėstininkų veidų išraiškos, jų šalmai-remiantis tai ekspertai galėjo nustatyti skirtingas etnines grupes ir karių amžių. Koks tai istorinis objektas ir kur jis yra? (2 taškai)



Atsakymas.....

E. Pastatai pradėti statyti nuo 1632 m. Aplink yra gražus parkas, kuris iki šiol laikomas gražiausiu pasaulyje. Jis suprojektuotas 1664-1668 m. garsaus ktaštovaizdžio architekto Andre de Notre'o. Ten stovi ir Bacho skulptūra. Koks tai istorinis objektas ir kur jis yra? (2 taškai)



Atsakymas.....

**5. ATSAKYKITE Į KLAUSIMUS (2 TAŠKAI)**

1.Koks yra svarbiausias olimpinių žaidynių atidarymo ceremoninio ritualas?

Atsakymas.....

2.Kokio žmogaus veiklos dėka buvo atgaivintos šiuolaikinės olimpinės žaidynės?

Atsakymas.....